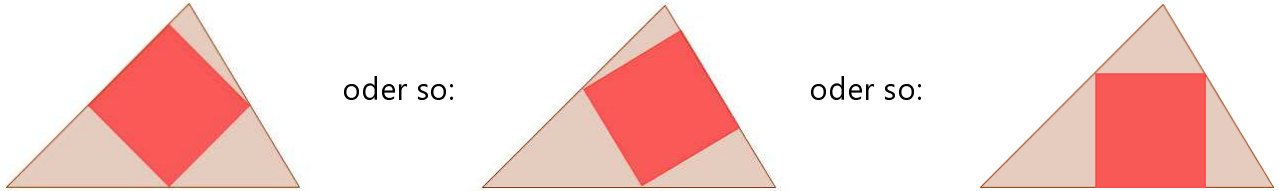


Additum zu 2.2. (Strahlensätze): Einbeschreibungsaufgaben

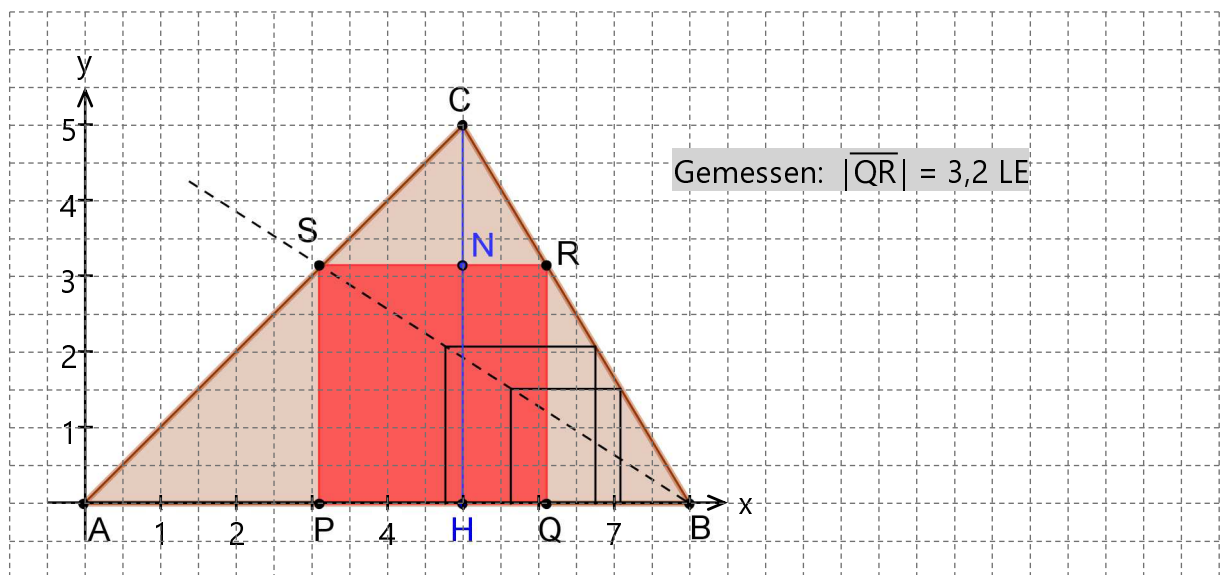
→ klassische Einbeschreibungsaufgaben, vor allem die rechnerische Ermittlung der Seitenlängen/Koordinaten der einbeschriebenen Figur

- ① Einem Dreieck soll ein Quadrat einbeschrieben werden. Das bedeutet, dass alle vier Eckpunkte des Quadrats auf den Seiten des Dreiecks liegen. Das kann zum Beispiel so aussehen:



Im Folgenden soll dem Dreieck ABC mit $A(0|0)$, $B(8|0)$ und $C(5|5)$ das Quadrat PQRS einbeschrieben werden, wobei die Seite \overline{PQ} des Quadrats auf der Seite \overline{AB} des Dreiecks liegen soll, der Punkt R auf der Seite \overline{BC} und der Punkt S auf \overline{AC} .

- a) Zeichne das Dreieck ABC und konstruiere das Quadrat PQRS hinein. Wie lang ist eine Seite dieses Quadrats (abmessen)?



- b) Zeichne den Hilfspunkt $H(5|0)$ und die Höhe \overline{HC} in das Dreieck ein. Berechne mithilfe des Strahlensatzes die Seitenlänge des einbeschriebenen Quadrats. Runde das Ergebnis auf zwei Stellen nach dem Komma und vergleiche es mit deiner Messung aus Teilaufgabe a).

$$\frac{|\overline{CH}|}{|\overline{AB}|} = \frac{|\overline{CN}|}{|\overline{SR}|}$$

$$\Leftrightarrow \frac{5}{8} = \frac{5-x}{x}$$

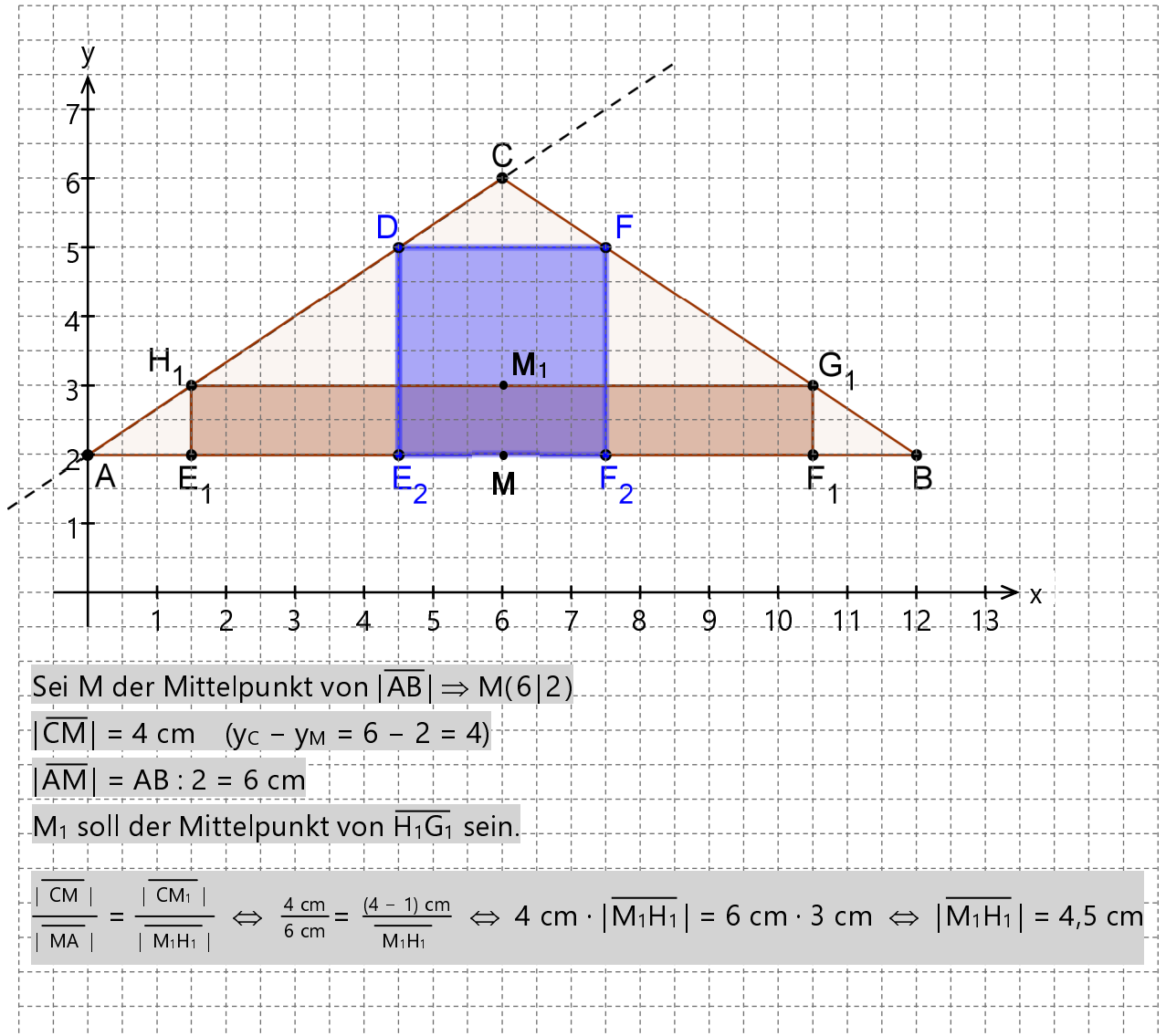
$$\Leftrightarrow 5x = 8 \cdot (5-x) \Leftrightarrow 5x = 40 - 8x \Leftrightarrow 13x = 40 \Leftrightarrow x = 3,08$$

Also: $|\overline{PQ}| = |\overline{QR}| = 3,08 \text{ LE}$

- 2 Dem gleichschenkligen Dreieck ABC mit seinen Eckpunkten A(0|2), B(12|2) und C(6|6) sind Rechtecke $E_nF_nG_nH_n$ einzubeschreiben, für die gilt:

$$\overline{E_nF_n} \subset \overline{AB}, G_n \in \overline{BC} \text{ und } H_n \in \overline{AC}.$$

- a) Zeichne das Dreieck ABC. Beschreibe ihm das Rechteck $E_1F_1G_1H_1$ mit $|\overline{E_1H_1}| = 1 \text{ cm}$ ein und berechne mithilfe des Strahlensatzes die Länge der Strecke $\overline{G_1H_1}$.



- b) Die Variable $x \in \mathbb{R}$ sei die Abszisse (der „x-Wert“) der Punkte H_n . Zeige, dass für die Ordinate (den „y-Wert“) der Punkte H_n gilt: $y = \frac{2}{3}x + 2$

☞ *Tip*: Bedenke, dass die Punkte H_n auf einer Geraden durch A und C „wandern“.

Geradengleichung AC: $y = mx + t$

$$m = \frac{\Delta y}{\Delta x} = \frac{y_C - y_A}{x_C - x_A} = \frac{6 - 2}{6 - 0} = \frac{4}{6} = \frac{2}{3}$$

$$\text{Da } A(0|2) \Rightarrow t = 2$$

$$\Rightarrow \text{AC: } y = \frac{2}{3}x + 2 \quad \text{und somit: } H_n(x | \frac{2}{3}x + 2)$$

- c) Stelle den Flächeninhalt der Rechtecke $E_nF_nG_nH_n$ in Abhängigkeit von x dar.

[Ergebnis: $A(x) = (8x - \frac{4}{3}x^2)$ FE]

$$A_{E_nF_nG_nH_n} = |\overline{E_nF_n}| \cdot |\overline{F_nG_n}|$$

$$|\overline{E_nF_n}| = (12 - x - x) \text{ LE}$$

$$|\overline{F_nG_n}| = (\underbrace{\frac{2}{3}x + 2}_{y_{H_n}} - \underbrace{2}_{y_A}) \text{ LE}$$

y_{H_n} y_A

$y_{H_n} - y_A$

$$\Rightarrow A(x) = ((12 - 2x) \cdot \frac{2}{3}x) \text{ FE}$$

$$= (8x - \frac{4}{3}x^2) \text{ FE}$$

- d) Berechne, für welche Belegung von $x \in \mathbb{R}$ der Flächeninhalt der Rechtecke $E_nF_nG_nH_n$ maximal ist und gib den dazu gehörigen Flächeninhalt an.

$$A(x) = 8x - \frac{4}{3}x^2$$

$$= -\frac{4}{3}x^2 + 8x$$

$$= -\frac{4}{3}[x^2 - 6x]$$

$$= -\frac{4}{3}[x^2 - 6x + 3^2 - 3^2]$$

$$= -\frac{4}{3}[(x - 3)^2 - 9]$$

$$= -\frac{4}{3}(x - 3)^2 + 12$$

$$A(x) = 12 \text{ (FE) für } x = 3$$

Für $x = 3$ erhält man das Rechteck mit dem größten Flächeninhalt: Es hat einen Flächeninhalt von 12 FE.

- e) Ermittle zeichnerisch, für welches $x \in \mathbb{R}$ ein Quadrat entsteht. Zeichne dieses in die Zeichnung aus Teilaufgabe a) ein und benenne es mit $E_2F_2G_2H_2$.

Zeige anschließend rechnerisch, dass dieses Quadrat $E_2F_2G_2H_2$ nicht das Viereck mit dem größten Flächeninhalt ist.

Für $x = 4,5$ ist $E_2F_2G_2H_2$ ein Quadrat. Folglich ist eine Seite dieses Quadrats

$(12 - 4,5 - 4,5) \text{ LE} = 3 \text{ LE}$ lang. Damit hat es einen Flächeninhalt von $3 \text{ LE} \cdot 3 \text{ LE} = 9 \text{ FE}$.

Das flächengrößte Rechteck ist aber das aus Teilaufgabe d), es hat nämlich einen Flächeninhalt von 12 FE. Das Quadrat hat also den kleineren Flächeninhalt.

Ergebnis: a) für $x = 3$ ist $A_{max} = 12 \text{ FE}$ b) für $x = 4,5$ ist $A_{E_2F_2G_2H_2} = 9 \text{ FE}$